



La cinématique des mécanismes

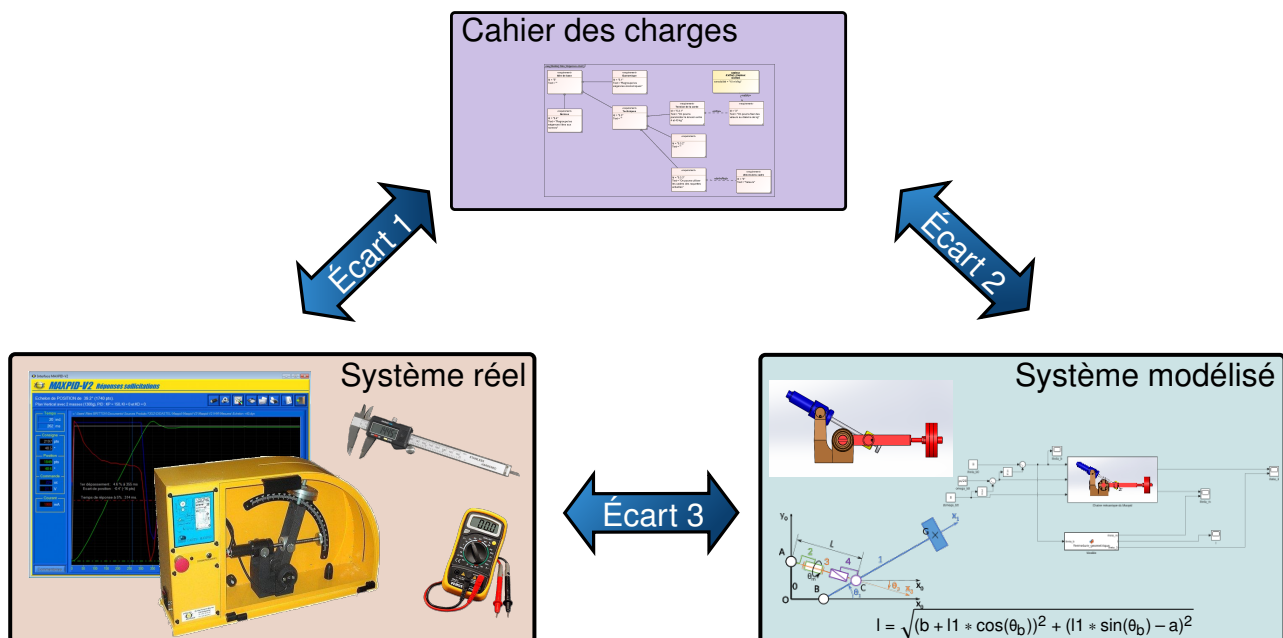


Référence	S03 - TP02 - I01
Compétences	B2-10: Déterminer les caractéristiques d'un solide ou d'un ensemble de solides indéformables. B2-11: Intégrer ou modifier une pièce dans un assemblage à l'aide d'un modèleur volumique 3D. B2-14: Modéliser la cinématique d'un ensemble de solides. C1-04: Proposer une démarche permettant d'obtenir une loi entrée-sortie géométrique. C2-05: Caractériser le mouvement d'un repère par rapport à un autre repère. C2-06: Déterminer les relations entre les grandeurs géométriques ou cinématiques. C3-01: Mener une simulation numérique. C3-02: Résoudre numériquement une équation ou un système d'équations. E1-05: Lire et décoder un document technique. E2-01: Choisir un outil de communication adapté à l'interlocuteur.
Description	Lois E/S de fermeture géométrique et cinématique. Simulation du comportement de modèles. Proposer des lois de commande en fonction d'exigences. Présenter les modèles acausaux
Système	Maxpid



Objectif du TP:

Modéliser la loi d'entrée/sortie cinématique d'un système



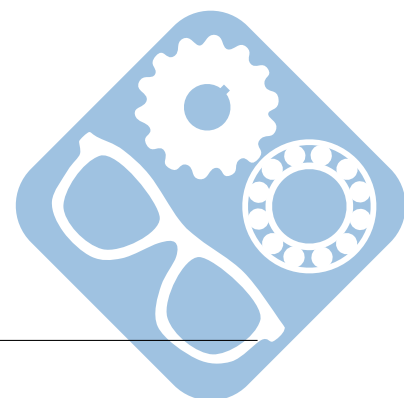
La démarche de l'ingénieur permet :

- De vérifier les performances attendues d'un système, par évaluation de l'écart entre un cahier des charges et les réponses expérimentales (écart 1),
- De proposer et de valider des modèles d'un système à partir d'essais, par évaluation de l'écart entre les performances mesurées et les performances simulées (écart 2),
- De prévoir le comportement à partir de modélisations, par l'évaluation de l'écart entre les performances simulées et les performances attendues du cahier des charges (écart 3).



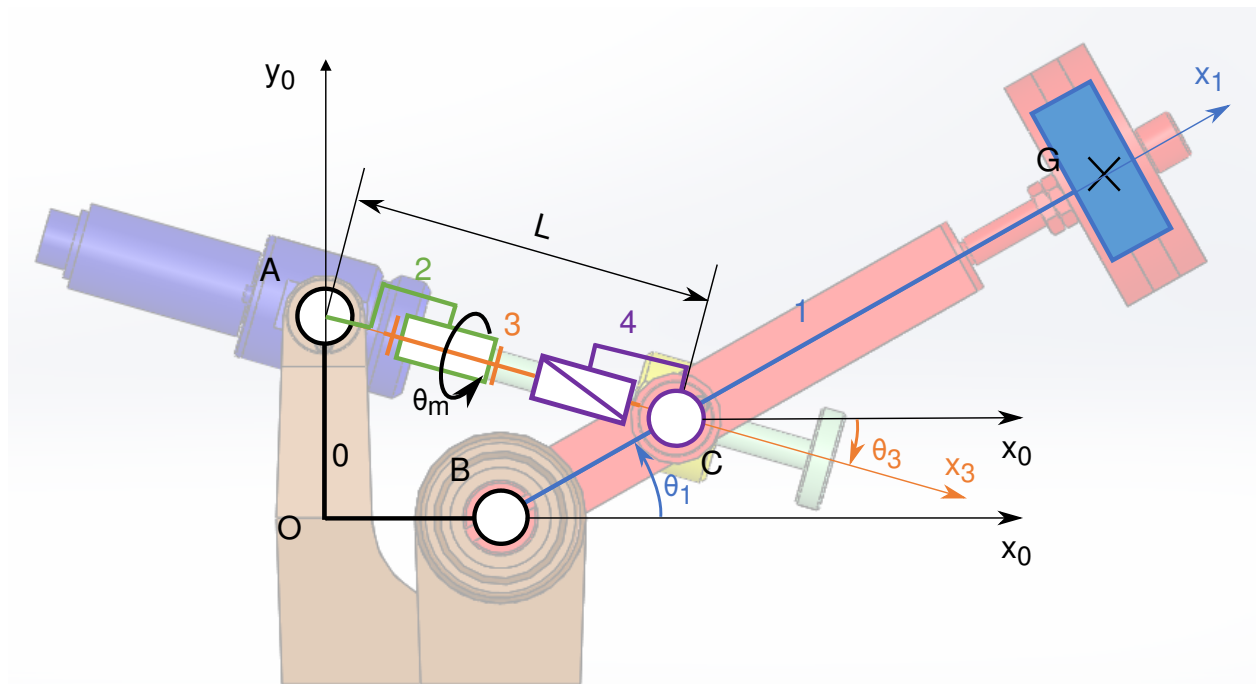
Pour ce TP, vous aurez à votre disposition les documents suivants :

- La Mise en oeuvre du système,
- de la procédure d'utilisation de Simscape disponible à la page 6,
- Les divers documents des système.




1 Détermination de la loi d'entrée/sortie géométrique

L'objectif de cette partie est de déterminer les équations liant les paramètres géométriques du système Maxpidet de les comparer avec celles obtenues par simulation Matlab/Simscape.



- Question 1**
Modéliser Déterminer θ_m et θ_3 en fonction de θ_1 et des dimensions géométriques du système en utilisant la loi de fermeture géométrique. Les dimensions seront mesurées sur le système.
- Question 2**
Résoudre Compléter le modèle Simscape avec ces équation comme sur la procédure 6 et vérifier que les résultats correspondent.
- Question 3**
Résoudre A l'aide d'un script python, faire varier θ_1 de 0 à $\frac{\pi}{2}$. Et tracer θ_m et θ_3 .
- Question 4**
Expérimenter Proposer un protocole permettant de mesurer les valeurs extrêmes (qui correspondent à la variation de θ_1 de 0 à $\frac{\pi}{2}$) de θ_m et θ_3 .
- Question 5**
Analyser Vérifier que le résultat de la question 2 correspond à celui de la question 3.



2 Détermination de la loi d'entrée/sortie cinématique

L'objectif de cette partie est de déterminer les équations liant les paramètres cinématiques du système Maxpidet de les comparer avec celles obtenues par simulation Matlab/Simscape.

On aura ainsi :

$$- \omega_1 = \dot{\theta}_1,$$

$$- \omega_m = \dot{\theta}_m \text{ et } \omega_3 = \dot{\theta}_3.$$

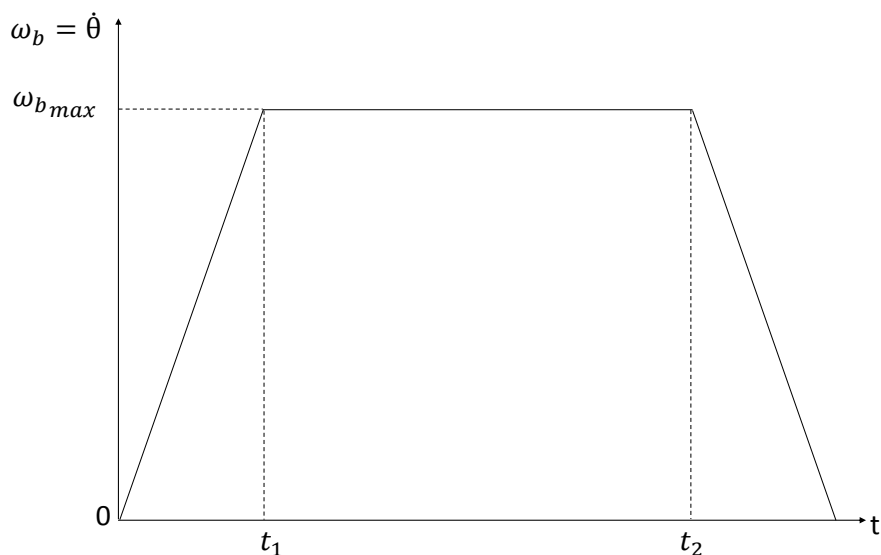
Question 6 Déterminer ω_m et ω_3 en fonction de ω_1 et des paramètres géométriques du système, en utilisant la loi de fermeture cinématique. Les dimensions seront mesurées sur le système afin d'effectuer l'application numérique.

Modéliser

Question 7 Compléter le modèle Simscape avec ces équations comme sur la procédure 6 et vérifier que les résultats correspondent.

Résoudre

L'objectif est d'obtenir le profil suivant pour la vitesse de rotation ω_1 .



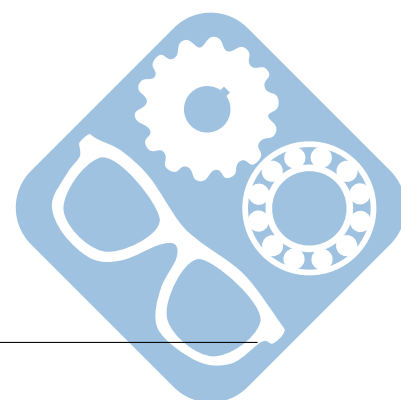
Données : $t_1 = 2\text{s}$, $t_2 = 8\text{s}$, $t_3 = 10\text{s}$.

Question 8 Déterminer ω_{\max} afin d'obtenir la variation de θ_1 de 0 à $\frac{\pi}{2}$.

Modéliser

Question 9 A l'aide d'un script python, déterminer le profil de vitesse à imposer à ω_m .

Modéliser



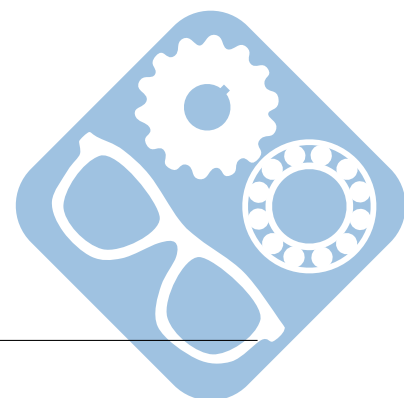
3 Vérification à l'aide de relevé expérimentaux

Le fichier contient des relevés expérimentaux issus du système réel.

- Question 10** Ouvrir l'ensemble des fichiers présents dans le dossier compressé et analyser leur contenu.
Expérimenter
- Question 11** Expliquer en quelques lignes le protocole expérimental mis en œuvre.
Expérimenter
- Question 12** Déterminer les écarts (et leurs origines) entre les résultats des la simulation (parties 1 et 2) et ceux issus de la partie expérimentale.
Expérimenter

4 Préparation d'une présentation

- Question 13** Préparer une présentation à l'aide de quelques slides pour présenter votre travail.
Communiquer



Utilisation de Matlab Simscape


La procédure suivante explique comment utiliser Matlab afin de simuler un modèle Simscape.

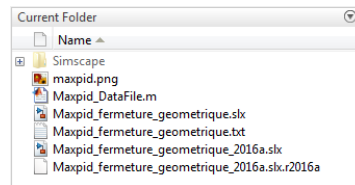
Ce modèle a été construit à partir des pièces, assemblages et contraintes d'un modèle Solidworks. Ce dernier n'est pourtant pas nécessaire pour le faire tourner.

Procédure :

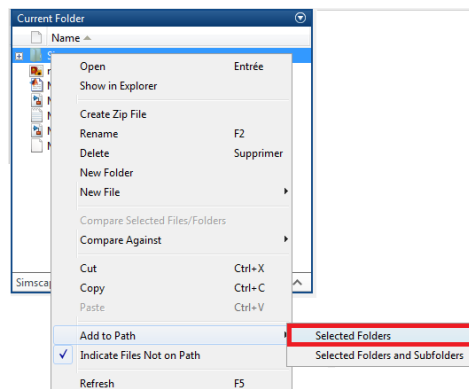
— Dézipper l'archive à télécharger [Modèle Simscape](#),

— Lancer Matlab  MATLAB R2016b

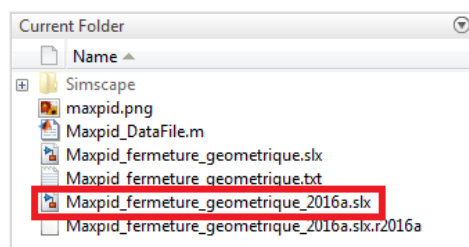
— Depuis Matlab, naviguer  dans le dossier dézippé jusqu'au dossier contenant les fichiers « .slx » et « Simscape » ,



— Faire un clic-droit sur le dossier « Simscape » et cliquer sur « Add to Path » ,



— Double-cliquer sur le fichier correspondant au TP et à la version de Matlab utilisée, il doit avoir une extension en « slx » .



— Afin d'exporter des données, il est nécessaire d'insérer un bloc **To File** disponible dans la section *Sinks* et de le connecter à la donnée à extraire,

— Double-cliquer dessus afin de modifier le paramètre *Save format* en **Array**. Cela a pour effet de créer un fichier *fichier.mat*,

— Celui-ci peut être convertit en fichier *fichier.csv* en utilisant les commandes suivantes:

```
FileData = load('fichier.mat');
csvwrite('fichier.csv', FileData.ans);
```

